

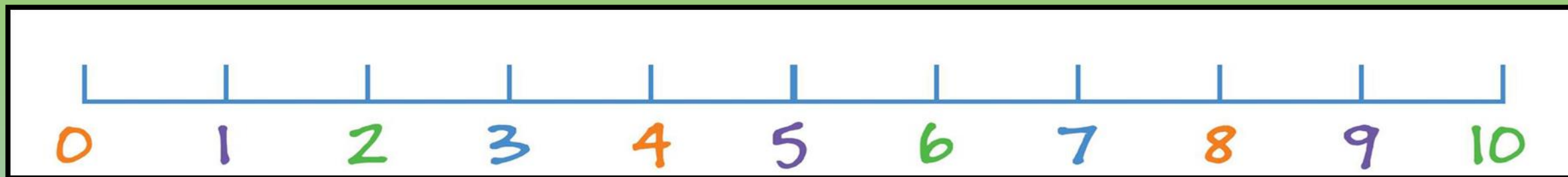


Παίζω και μαθαίνω τους αριθμούς

Δημόσιο και Κοινοτικό Νηπιαγωγείο Λακατάμειας Α΄



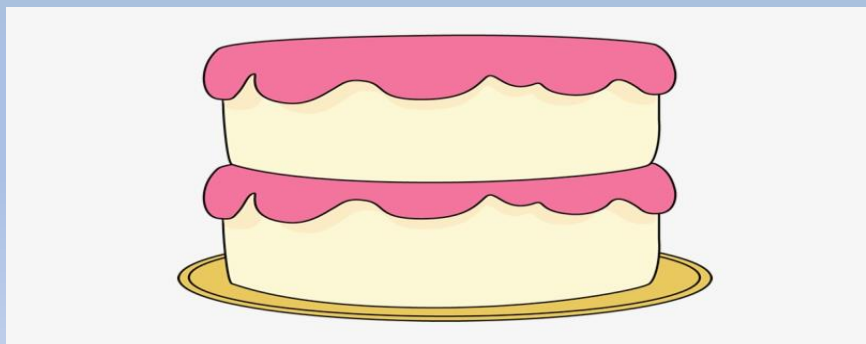
Μπορείς να αναγνωρίσεις τους αριθμούς της πιο κάτω αριθμογραμμής;



Το ήξερα ότι θα τα καταφέρεις!!!!!!

- Τώρα δείξε τον αριθμό που λέει πόσων χρόνων θα είσαι στα γενέθλιά σου.
- Βάλε τόσα κεράκια στην τούρτα όσα θα είναι και τα χρόνια σου στα γενέθλιά σου.

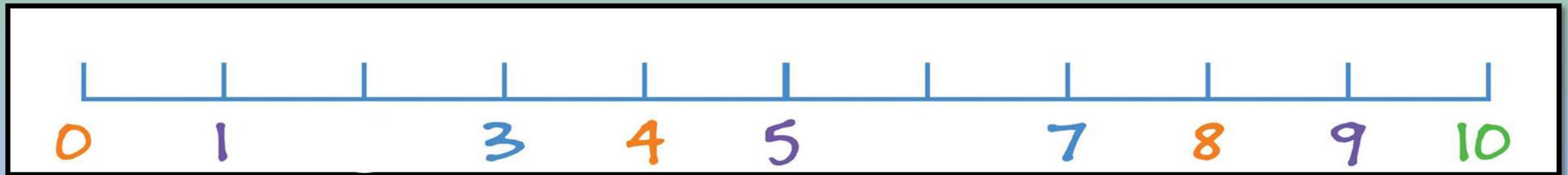
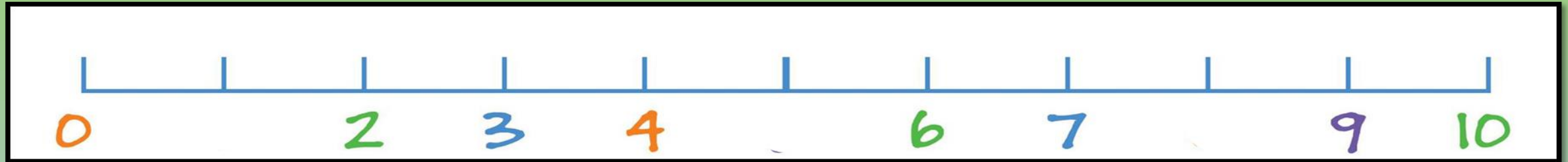
Εξαιρετικά !!!!!!!!



Στις πιο κάτω αριθμητικές γραμμές λείπουν κάποιοι αριθμοί.

Βρες τους και γράψε τους.

Εάν δυσκολεύεσαι συμβουλέψου την αριθμητική γραμμή της προηγούμενης σελίδας



Τέλεια !!!! Καταπληκτικά!!!



Στα πιο κάτω τετράγωνα είναι γραμμένοι οι αριθμοί από το 1- 9. Σε κάθε τετράγωνο λείπουν κάποιοι αριθμοί. Βρες ποιοι λείπουν και γράψε τους. Εάν δυσκολεύεσαι συμβουλέψου την αριθμητική γραμμή της πρώτης διαφάνειας.

1	8	
	4	2
9		5



	8	3
5		2
9	6	

1	8	3
	4	
9	6	5



Συμπλήρωσε το πιο κάτω αριθμητικό τετράγωνο:



Συμπλήρωσε την πιο κάτω αριθμητική γραμμή:

